

2021 기대모의고사 출제 / 해설

김주한 (고려대학교 물리학과 16)

- 前) 강남대성학원 수학 콘텐츠 출제자
 공개출판은 처음이지만 시중의 꽤 많은 콘텐츠에 출제 참여해온, 대치에 눌러살기 시작한 전문 수학 콘텐츠 제작자이다. 수험생활의 절박함을 항상 잊지 않고, 수학 콘텐츠는 결국 '점수를 올리기 위한 수단'이라는 생각으로 무엇보다 '실전적이고 실질적인 도움'을 줄 수 있는 콘텐츠를 만들어낼 수 있도록 노력하는 저자이다.

김기대 (고려대학교 수학과)

- 고려대, 서강대 등 5개교 수학과 논술 최초합격
 - 매년 한양대, 인하대 등 이공대 수리논술 Final 마감 (입학처가 선정한 모범답안자 배출)
 - 2016~2020 기대모의고사 저자

1.	⑤	11.	④	21.	③
2.	③	12.	⑤	22.	27
3.	③	13.	④	23.	5
4.	④	14.	⑤	24.	7
5.	①	15.	②	25.	30
6.	②	16.	②	26.	40
7.	①	17.	③	27.	19
8.	④	18.	②	28.	12
9.	⑤	19.	①	29.	20
10.	③	20.	⑤	30.	245

출판물은 본 시험보다 수학1과 수학2 문항의 난이도가 어려워지고 출제의 다양화(ex.수열 킬러, 사인-코사인법칙 준킬러, 수학2 신유형 등등)가 이루어질 예정이며, 확통은 본 시험 수준으로 유지될 예정입니다.

Volume	출판시기	교재 컨셉	예상 1컷
Vol.1 가형/나형 4회분 Vol.2 가형/나형 3회분	7월 중	① 지난 4년간 검증된 우수한 문항들을 이번 교육과정의 목표에 맞도록 수정 ② 작년 수능과 올해 6평의 난이도를 최우선 반영하여 실전적인 모의고사를 지향	88~92
Vol.1, Vol.2는 17~20 기대모의고사, 오르비 콘텐츠의 문항들을 새 교육과정에 맞게 수정/변형하여 수록했습니다. 신문항 비율 40% (가형 기준) 이 두 모의고사에서는 '가르침' 보다 '실전력 강화'에 더 중점을 두었기 때문에, 작년 기대모의고사보다 풀기 편한 모의고사가 되었습니다.			
Vol.3 가형/나형 3회분	8월	① 6평의 문항 출제 트렌드(킬러 출제 단원, 준킬러 배치 및 위치 선정 등) 적극 반영 ② 기존 문제와 차원이 다르고 더 평가원스러운 2021 수특/수완 변형 문항 수록	88~92
올해 출제기조를 적용하기 위해 Vol.3의 모든 문항은 6평 이후에 전부 새로 제작되며 올해 EBS 수특/수완 우수문항을 적극적으로 반영합니다. 또한 새 저자의 영혼을 갈아넣은 문항들이 아주 많이 포함되기 때문에 Vol1, 2보다 좀 더 교훈적이고 의미 깊은 문제들이 수록되므로 수능 현장에서 맞볼 수 있는 낯설음과 긴장감을 미리 느껴볼 수 있을 것입니다.			

수업명	수강 추천대상	수업 컨셉	개강일
수리논술 정규반 (총 12강)	①수리논술 노베이스 ②논술준비 6개월 ↓ ③수리논술 탈락을 경험한(πππ) 재수생	① 수리논술에 꼭 필요한 개념과 사고만 배웁니다. ② 수능과 논술의 사이에 있는 개념과 문제들을 이용하여 자연스럽게 수능에서 수리논술로 넘어갑니다. 따라서 논술 노베이스도 쉽게 따라올 수 있습니다. ③ 불안감을 증폭시키는 자극적인 내용은 No. 새 교육과정에서 나올 수 있는 Theme 만을 엄선하고 적합한 기출문제들을 풀기 때문에 최고의 효율을 선사합니다.	대치오르비 6/20(토) 오전9시 대치 명인 6/21(일) 오후14시
수리논술 고난도 문풀반 (총 10~12강)	①고난도 수리논술 출제학교 지원예정자 ②의예과 논술 노베	① 연세/한양/서강/이화/인하/홍익/아주 등 고난도 수리논술 지원 예정자들에게 필수! ② 특히 연세대는 다른 학교들보다 최대 60일 빠르게 시험보고, 한양대와 서강대는 수능 2일 뒤에 보기 때문에 준비할 시간이 없으므로, 미리 학교들의 고난도 기출문제를 풀어보는 수업	대치오르비 6/21(일) 오전9시
수능 전 Final (연세대 4~5회, 시립대 4회, 홍익대 4회) 은 고난도 문풀반 이후 진행됩니다. 오르비 칼럼글을 통해 공지드리겠습니다. 수능 후 Final (한양대, 인하대, 이화여대 등)은 10월 말 혹은 수능 직전 무료배포 모의고사에서 공지드리겠습니다.			

1) 정답 : ⑤ 8

$$2^6 \times 2^{-3} = 2^{6+(-3)} = 2^3 = 8$$

2) 정답 : ③ 60

x 가 4번, $\frac{2}{x^2}$ 이 2번 선택되면 되므로 ${}^6C_4 \times x^4 \times \left(\frac{2}{x^2}\right)^2 = 60$ 이다.

3) 정답 : ③ -2

$$\lim_{x \rightarrow 2} \frac{x^2 + ax + 2}{x - 2} = b \text{에서 분모가 } 0 \text{으로 수렴하므로}$$

분자도 0으로 수렴해야하고, 따라서 $2a + 6 = 0$, $a = -3$ 이다.

또한 이 값을 극한에 대입한 후 분모, 분자에서 $x - 2$ 를 나눠주면 $b = 1$ 임을 알 수 있다. 따라서 $a + b = -2$ 이다.

4) 정답 : ④ 10

$$\log ab = 3 \text{에서 } ab = 10^3 = 1000 \text{이고}$$

$$\log_2 a = \log_4 b \text{에서 } b = a^2 \text{이다.}$$

따라서 $a^3 = 1000$ 에서 $a = 10$, $b = 100$ 임을 알 수 있고,

$$\frac{b}{a} = 10 \text{이다.}$$

5) 정답 : ① $\frac{1}{5}$

$y = x^3 - x^2 + 4x$, $y' = 3x^2 - 2x + 4$ 이므로 점 $(1, 4)$ 에서 그은 접선의 기울기는 5이다. 따라서 접선의 방정식은 $y = 5x - 1$ 이므로

x 절편은 $\frac{1}{5}$ 이다.

6) 정답 : ② 35

등차수열의 성질에 의하여 $a_2 + a_6 = 2a_4 = 10$ 이다. 따라서

$$\sum_{k=1}^7 a_k = (a_1 + a_7) + (a_2 + a_6) + (a_3 + a_5) + a_4 = 10 + 10 + 10 + \frac{10}{2} = 35$$

7) 정답 : ① $\frac{1}{3}$

$$P(A|B) = \frac{1}{2} \Rightarrow P(B) = 2P(A \cap B) \text{이고}$$

$$\frac{P(A) - P(A \cap B)}{P(B) - P(A \cap B)} = 2 \text{에서 } P(B) = 2P(A \cap B) \text{이므로}$$

$$P(A) = 3P(A \cap B) \text{이다.}$$

$$\text{따라서 } P(B|A) = \frac{P(A \cap B)}{P(A)} = \frac{1}{3} \text{이다.}$$

8) 정답 : ④ 3

$f(x) = f(-x)$ 이므로 $\lim_{x \rightarrow -2^-} f(x)$ 에서 $x = -t$ 로 치환하면

$$\lim_{x \rightarrow -2^-} f(x) = \lim_{t \rightarrow 2^+} f(-t) = \lim_{t \rightarrow 2^+} f(t) = 2 \text{임을 알 수 있고}$$

$$\lim_{x \rightarrow 1^-} f(x) = 1 \text{이다. 따라서 } \lim_{x \rightarrow -2^-} f(x) + \lim_{x \rightarrow 1^-} f(x) = 3$$

9) 정답 : ⑤ $\frac{13}{18}$

$a^b \leq 4$ 일 확률을 구한 후 1에서 빼주도록 하자.

$a = 1$ 일 때, b 에 관계없이 모두 성립한다.

$a = 2$ 일 때, $b = 1, b = 2$ 인 경우만 가능하다.

$3 \leq a \leq 4$ 일 때, $b = 1$ 인 경우만 가능하므로,

총 경우의 수는 $6 + 2 + 2 = 10$ 이다.

따라서, $a^b \leq 4$ 일 확률은 $\frac{10}{36} = \frac{5}{18}$ 이므로

정답은 그 여사건의 확률인 $1 - \frac{5}{18} = \frac{13}{18}$ 이다.

10) 정답 : ③ -3

부등식 $x^4 - 4x \geq k$ 를 만족시켜야 한다.

함수 $y = x^4 - 4x$ 의 도함수는 $y' = 4x^3 - 4$ 이므로

함수 $y = x^4 - 4x$ 는 $x = 1$ 에서 극솟값이자 최솟값 -3 을 갖는다.

따라서 $-3 \geq k$ 를 만족시켜야 하므로 k 의 최댓값은 -3 이다.

11) 정답 : ④ 64

$$a_3 a_5 = (a_4)^2 \text{이므로 } a_4 = 1.$$

$$\text{또한 } \sum_{n=1}^8 \log_2 a_n = \log_2 (a_1 a_2 \dots a_8) = 3 \text{이므로 } a_1 a_2 \dots a_8 = 8.$$

그런데 $a_1 a_7 = a_2 a_6 = a_3 a_5 = (a_4)^2$ 이므로

$$a_1 a_2 \dots a_8 = (a_4)^7 \times a_8 \text{이다. 따라서 } a_8 = \frac{8}{1^7} = 8.$$

$$a_4 = 1, a_8 = 8 \text{이므로 공비를 } r \text{라 하면 } r^4 = 8.$$

$$\text{따라서 } a_{12} = a_4 \times r^8 = 8^2 = 64$$

12) 정답 : ㉔ 4

$$\lim_{x \rightarrow 1} \frac{f(x) - f(3)}{x - 1} = 2 \text{의 분모가 } 0 \text{으로 가므로 분자도 } 0 \text{으로 간다.}$$

따라서 $f(1) = f(3)$ 이므로 $f(x) = a(x-2)^2 + b$ 로 두자.

$$\lim_{x \rightarrow 1} \frac{f(x) - f(3)}{x - 1} = \lim_{x \rightarrow 1} \frac{f(x) - f(1)}{x - 1} = f'(1) = 2 \text{이고}$$

$f'(x) = 2a(x-2)$ 이므로 $f'(1) = 2$ 에서 $-2a = 2$, $a = -1$ 이다.

따라서 $f'(x) = -2(x-2)$ 로부터 $f'(0) = 4$ 이다.

13) 정답 : ㉔ 176

$$\begin{aligned} & \sum_{k=1}^{11} (k \times |k-10|) \\ &= 11 \times |11-10| + \sum_{k=1}^{10} \{k \times (10-k)\} \\ &= 11 + (550 - 385) \left(\because \sum_{k=1}^{10} k = 55, \sum_{k=1}^{10} k^2 = 385 \right) \\ &= 176 \end{aligned}$$

14) 정답 : ㉔ $\frac{1}{2}$

점 A와 점 B에서 x축에 내린 수선의 발을 각각 A', B'이라 하자.

$\overline{PB} = 2\overline{PA}$ 이므로 $\overline{BB'} = 2\overline{AA'}$ ($\because \triangle PAA', \triangle PBB'$ 은 AA 닮음)

이고, 두 점 A와 B는 곡선 $y = \log_3 x$ 위의 점이므로

점 A의 x좌표를 a ($0 < a < 5$)라 하면 점 B의 x좌표는 a^2 이다.

또한 $\overline{PB'} = 2\overline{PA'}$ 이므로 $a^2 - 5 = 2(5 - a)$ 이고

$a^2 + 2a - 15 = 0$, $a^2 + 2a - 15 = 0$, $(a+5)(a-3) = 0$ 이므로

$a = 3$ 이다.

따라서 점 B의 좌표가 B(9, 2)이므로 $y = m|x-5|$ 에서 $2 = 4m$

이고, $m = \frac{1}{2}$ 이다.

15) 정답 : ㉔ 19

i) 이 주머니에서 0이 적힌 카드를 골랐을 때

0이 적힌 카드 1장, 1이 적힌 카드 2장, 2이 적힌 카드 1장을 갖고 있으므로

네 장의 카드를 임의로 배열하는 경우의 수는 $\frac{4!}{2!}$ 이고 네 자리 자연수를 만들어야 하기 때문에 첫 번째 자리에 0이 오는 경우의 수 $\frac{3!}{2!}$ 만큼을 빼주면

전체 경우의 수 $\frac{4!}{2!} - \frac{3!}{2!} = 9$ 를 구할 수 있다.

ii) 이 주머니에서 1이 적힌 카드를 골랐을 때

1이 적힌 카드 3장, 2이 적힌 카드 1장을 갖고 있으므로

전체 경우의 수는 $\frac{4!}{3!} = 4$ 이다.

iii) 이 주머니에서 2가 적힌 카드를 골랐을 때

1이 적힌 카드 2장, 2이 적힌 카드 2장을 갖고 있으므로

전체 경우의 수는 $\frac{4!}{2!2!} = 6$ 이다.

따라서 세 가지 각각의 경우의 수를 모두 더하면 총 19가지이다.

16) 정답 : ㉔ 10

수열의 귀납적 정의 문제는, 문제의 조건에 맞게 잘 나열하는 게 상책이다. 다만 $n \geq 5$ 부터는 $\{a_n\}$ 이 부분적으로 공비가 2인 등비수열을 이룬다는 것은 눈치채주자.

$$a_2 = -a_1 - 5 = -7$$

$$a_3 = a_2 - 5 = -12$$

$$a_4 = -a_3 - 5 = 7$$

$$a_5 = a_4 - 5 = 2$$

이므로 $\sum_{k=1}^5 a_k = (2) + (-7) + (-12) + (7) + (2) = -8$ 이고,

$a_6 = 2 \times 2$, $a_7 = 2 \times 2 \times 2 \dots$ 에서

$a_n = 2^{n-4}$ (단, $n \geq 6$)이므로

$$\sum_{k=1}^5 a_k + \sum_{k=6}^m a_k = (-8) + (4 + 8 + \dots + 2^{m-4}) > 53,$$

$4 + 8 + \dots + 2^{m-4} > 61$ 인 m 을 찾아주면 된다.

$4 + 8 + 16 + 32 = 60 < 61$, $4 + 8 + 16 + 32 + 64 = 124 > 61$ 이므로

$m - 4 = 6$, $m = 10$ 일 때 처음으로 문제의 부등식을 만족시킨다.

따라서 정답은 10이다.

17) 정답 : ③ 3

점 P는 $t < 3$ 일 때 꾸준히 왼쪽으로 운동하다가 $t > 3$ 일 때 꾸준히 오른쪽으로 운동한다.

점 Q는 $t < 3$ 일 때 꾸준히 오른쪽으로 운동하다가 $t > 3$ 일 때 꾸준히 왼쪽으로 운동한다.

따라서 이 경우 점 P는 Q보다 오른쪽에 있어야만 두 점이 영원히 만나지 않을 수 있음을 알 수 있다.
(문제 조건에 대한 의문 해결!)

또한 두 점 P, Q가 제일 가까워지는 시각은 $t=3$ 일 때임을 알 수 있다.

$0 \leq t \leq 3$ 일 때 점 P가 이동한 거리는 왼쪽으로

$$\int_0^3 |t^2 - 2t - 3| dt = 9 \text{ 이고}$$

$0 \leq t \leq 3$ 일 때 점 Q가 이동한 거리는 오른쪽으로

$$\int_0^3 |-at^2 + 3at| dt = \frac{9a}{2} \text{ 이므로 } 9 + \frac{9a}{2} < 27 \text{ 에서 } a < 4 \text{ 이다.}$$

따라서 가능한 자연수 a 의 개수는 3이다.

18) 정답 : ② $\frac{40}{3}$

< (가) 해석 >

$ab < 6$ 를 만족시키는 자연수 순서쌍 (a, b) 는

- (5, 1), (4, 1), (3, 1), (2, 2), (2, 1),
- (1, 5), (1, 4), (1, 3), (1, 2), (1, 1)

로 총 10개이고, (5, 1), (1, 5)일 때 $a+b$ 는 최댓값 6을 갖는다.
따라서 $p=6$ 이다.

$a+b$ 의 최댓값이 6이고, 문제 조건에서 n 은 7 이상의 자연수이기 때문에 자연스럽게 $a+b \leq n$ 를 항상 만족시킬 수밖에 없음을 확인하자.

< (나) 해석 >

a, b 는 자연수이고, c 는 음이 아닌 정수이므로

$$a = a' + 1, b = b' + 1 \text{ 로 두면 } a + b + c = a' + b' + c + 2 = n \text{ 에서 } a' + b' + c = n - 2 \text{ 이다.}$$

이를 만족시키는 순서쌍 (a', b', c) 의 개수는

$${}_3H_{n-2} = {}_n C_{n-2} = {}_n C_2 \text{ 이다. } \therefore f(n) = \frac{n(n-1)}{2}$$

< (다) 해석 >

조건부확률에 의하여

$$g(n) = \frac{10}{\frac{n(n-1)}{2}} = \frac{20}{n(n-1)} \text{ 이다.}$$

(10은 $ab < 6$ 를 만족시키는 자연수 순서쌍 (a, b) 의 개수를 뜻한다.)

$$\text{따라서 } f(p+2) \times g(p+1) = f(8) \times g(7) = 28 \times \frac{10}{21} = \frac{40}{3} \text{ 이다.}$$

출제자의 한마디

보통 '확률에서는 중복조합을 쓰면 안된다.'는 말을 많이 들었을 것이다. 하지만, 각각 근원사건의 확률이 같은 경우, 중복조합으로 구한 경우의 수도도 확률을 구할 수 있다.

근원사건이 기대되는 정도가 같은 경우, 어떤 방법을 쓰는 상관이 없다.

19) 정답 : ① 108

자연수 a 를 b 로 나눈 몫과 나머지는 유일하게 결정된다.

예를 들면, $14 = 4 \times 3 + 2$ 이므로 몫과 나머지는 각각 3, 2이다. $14 = 4 \times 2 + 6$ 으로도 표현은 되지만, 몫과 나머지를 2, 6이라고는 하지 않는다. 나머지는 $b(=4)$ 보다 작은 음이 아닌 정수여야 하기 때문이다.

이를 거꾸로 말하면, 몫과 나머지를 정하면 그 수가 역으로 결정된다는 것과 같다. 예를 들어, 4로 나눈 몫과 나머지가 각각 3, 2인 수는 14이다. 이 14를 다른 (몫, 나머지) 순서쌍으로 표현할 수 없기 때문에 몫과 나머지를 정하는 것과 그 수를 정하는 것은 정확히 일대일대응이 된다. 이러한 기본 생각을 갖고 문제에 접근해보자.

(나) 조건에 의하면

4로 나눈 나머지가 될 수 있는 0, 1, 2, 3 들의 합으로 2를 만드는 x, y, z 의 집합은 $\{0, 1, 1\}, \{2, 0, 0\}$ 뿐이다.

1) $\{0, 1, 1\}$ 인 경우

$$x = 4a, y = 4b + 1, z = 4c + 1 \text{ 라 두자.}$$

(여기서 a 는 자연수, b, c 는 음이 아닌 정수이다. a 만 자연수인 이유는 x, y, z 가 자연수여야 하는데 x 엔 나머지가 없어서 몫이 자연수여야 하기 때문이다.)

이렇게 구한 경우의 수에 나머지가 0일 문자를 x, y, z 중 골라 주는 ${}_3C_1$ 을 곱하면 된다.

따라서 $4a + (4b + 1) + (4c + 1) = 26$ (a 는 자연수, b, c 는 음이 아닌 정수)를 만족하는 순서쌍 (a, b, c) 의 개수를 구하자.

$$4a + (4b + 1) + (4c + 1) = 26 \text{ 에서 } 4(a + b + c) = 24 \text{ 이고}$$

$a+b+c=6$ 이므로 이를 만족하는 순서쌍 (a, b, c) 의 개수는 ${}_3H_{6-1} = 21$ 이다.

따라서 1)의 경우의 수는 총 $21 \times 3 = 63$ 이다.

2) $\{2, 0, 0\}$ 인 경우

$$x = 4X + 2, y = 4Y, z = 4Z$$

(X 는 음이 아닌 정수, Y, Z 는 자연수)

로 두고, 마찬가지로 이렇게 구한 경우의 수에 나머지가 2일 문자를 x, y, z 중 골라주는 ${}_3C_1$ 을 곱하면 된다.

1)에서와 마찬가지로

$X+Y+Z=6$ (X 는 음이 아닌 정수, Y, Z 는 자연수)를 만족하는 순서쌍 (X, Y, Z) 의 개수를 구하면 ${}_3H_{6-2} = 15$ 이다.

따라서 2)의 모든 경우의 수는 $15 \times 3 = 45$ 이다.

1)과 2)에 의해, 총 경우의 수는 $45 + 63 = 108$ 이다.

출제자의 한마디
<p>$x+y+z=26$이고, 26은 4로 나눈 나머지가 2이므로 (나) 조건이 꼭 필요한 것이냐고 묻는 학생들이 있을 수 있다. 하지만 $x+y+z$를 4로 나눈 나머지는 2가 아닌 6이 될 수도 있다.</p> <p>$(x, y, z) = (11, 11, 4)$를 확인해보면 나머지의 합이 6이다. 하지만 이를 더한 $x+y+z$의 나머지는 4 이상이 되면 안되므로 이 6을 다시 한 번 4로 나눠서 나머지 2를 맞춰 주는 것이다.</p>

20) 정답 : ㉟ ㄱ, ㄴ, ㄷ

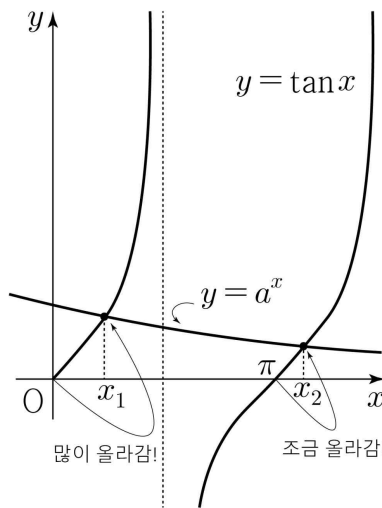
ㄱ.

두 곡선 $y = a^x \cos x (0 \leq x \leq 2\pi)$, $y = \sin x$ 의 교점의 x 좌표 x_1, x_2 는 다음 방정식의 해이다.

$$a^x \cos x = \sin x \Rightarrow a^x = \frac{\sin x}{\cos x} = \tan x$$

따라서 x_1, x_2 는 두 곡선 $y = a^x, y = \tan x (0 \leq x \leq 2\pi, \cos x \neq 0)$ 의 두 교점의 x 좌표와 같으므로 $a^{x_1} = \tan x_1$ 이다. (참)

ㄴ.



$0 < a < 1$ 이므로 $0 < x < 2\pi$ 인 모든 실수 x 에 대하여 $0 < a^x < 1$ 이다. 따라서 $a^{x_1} = \tan x_1 < 1 = \tan \frac{\pi}{4}$ 이므로 $0 < x_1 < \frac{\pi}{4}$ 이다. (참)

ㄷ.

먼저, 문제에 등장하는 y_1, y_2 는 위 그림에 찍힌 두 점의 y 좌표가 아님에 유의하자.

ㄴ으로부터 $0 < x_1 < \frac{\pi}{4}$ 임을 알았고, 위 그림으로부터

$\pi < x_2 < x_1 + \pi$ 임을 알 수 있다.

$y_2 = \sin x_2$ 의 값이 음수임을 부등식 $\pi < x_2$ 으로부터 알 수 있고, $y_1 = \sin x_1$ 의 절댓값이 $y_2 = \sin x_2$ 의 절댓값보다 크음을 부등식 $x_2 < x_1 + \pi$ 으로부터 알 수 있다.

그런데 $0 < x_1 < \frac{\pi}{4}$ 이므로 $\sin x_1 = y_1 < \frac{\sqrt{2}}{2}$ 이고

$$|\sin x_2| = |y_2| < |y_1| < \frac{\sqrt{2}}{2} \text{ 이므로}$$

$$-\frac{\sqrt{2}}{2} < y_2, -y_2 < \frac{\sqrt{2}}{2} \text{ 이다.}$$

따라서 $y_1 - y_2 < \frac{\sqrt{2}}{2} + \frac{\sqrt{2}}{2} = \sqrt{2}$ 이다. (참)

21) 정답 : ㉟ 18

문제에서 구하려는 것이 사각형 ABCD의 둘레이므로, 네 변을 모두 구해야 할 것 같다.

먼저 눈에 띄는 것은 선분 AB. 피타고라스 정리에 의하여 $\overline{AB} = 5$ 이다. 여기서 $\angle ABP = \theta$ 라 하면 $\cos \theta = \frac{4}{5}, \sin \theta = \frac{3}{5}$ 이고 $\angle ABC = 90^\circ + \theta$ 이다.

길이 정보와 각 정보가 있는 삼각형 ABC 부터 보자. 삼각형

ABC의 외접원 O의 반지름의 길이는 $\sqrt{\frac{25}{2}} = \frac{5\sqrt{2}}{2}$ 이므로

사인법칙에 의하여 $\frac{\overline{AC}}{\sin(90^\circ + \theta)} = 5\sqrt{2}$ 임을 알 수 있다.

$\sin(90^\circ + \theta) = \cos\theta$ 이므로 $\overline{AC} = 4\sqrt{2}$ 이다.

또한 $\angle APB = \angle PBC = 90^\circ$ 이므로 점 A에서 선분 BC의 연장선에 수선의 발 H를 내려 삼각형 AHC에서 피타고라스 정리를 사용하면 $\overline{CH} = \sqrt{(4\sqrt{2})^2 - 4^2} = 4$, $\overline{BC} = 4 - 3 = 1$ 임을 알 수 있다.

한편 사각형 ABCD는 원에 내접한 사각형이므로 $\angle ADC = 180^\circ - \angle ABC = 90^\circ - \theta$ 이다.

사각형 ABCD의 둘레의 길이를 구해야 하므로 $\overline{DC} = a$, $\overline{DA} = b$ 라 하자.

a, b 를 각각 구할 수 있다면 좋겠지만 우리의 목표는 $a+b$ 를 구하는 것이므로 이를 통째로 구해야 할 수도 있겠다는 생각을 반드시 갖고 있어야 한다.

삼각형 ADC에서 코사인법칙에 의하여 $a^2 + b^2 - 2ab \times \cos(90^\circ - \theta) = 32$ 이므로

$$a^2 + b^2 - \frac{6}{5}ab = 32 \text{ 이다. } \dots \textcircled{1}$$

또한 (다) 조건에 의하여 $\frac{1}{2}ab \sin(90^\circ - \theta) = 14$, $ab = 35$ 이다. $\dots \textcircled{2}$

$\textcircled{1}$ 에 $\textcircled{2}$ 를 적용하면 $a^2 + b^2 = 74$, $ab = 35$ 이다. 이 둘을 연립하면 a, b 를 (5, 7) 따위로 구할 수 있겠으나 앞서 말했듯이 문제의 목표는 둘레의 길이를 구하는 것이므로 $(a+b)^2 = a^2 + b^2 + 2ab$ 공식을 활용해주는 것이 좋은 센스이다.

$(a+b)^2 = 74 + 70 = 144$ 로부터 $a+b = 12$ 이고 $\overline{AB} = 5$, $\overline{BC} = 1$ 이므로 정답은 $12+5+1=18$ 이다.

22) 정답 : 27

$${}_3\Pi_3 = 3^3 = 27$$

23) 정답 : 5

곡선 $y = 2^{x+2} - a$ 위의 점 중 y 축 위에 있는 점 $(0, 4-a)$ 을 생각해보면, 우상향하는 지수함수 그래프의 특성상 이 점이 $y < 0$ 인 영역에 포함되어야 제2사분면을 제외한 모든 사분면을 지날 수 있다.

따라서 $4-a < 0$ 에서 자연수 a 의 최솟값은 5이다.
(참고) x, y 축은 어느 사분면에도 포함되지 않는다.

24) 정답 : 7

$f'(x) = 3x^2 - 2ax + 2a$ 이고, $f'(x)$ 의 부호변화가 있으면 안 되므로 이차함수 $f'(x)$ 의 근은 1개 이하여야 한다.

따라서 판별식을 통해 $D/4 = a^2 - 6a \leq 0$ 을 만족해야 하므로 $0 \leq a \leq 6$ 이고, 정수 a 의 개수는 7개이다.

25) 정답 : 30

꺼낸 공에 1이 적힌 공이 있는 사건을 A, 꺼낸 공에 6이 적힌 공이 있는 사건을 B라 하자.

A 또는 B일 확률은 $P(A \cup B) = P(A) + P(B) - P(A \cap B)$ 로

$$\text{구할 수 있다. 따라서 } p = \frac{{}_5C_1 + {}_5C_1 - {}_2C_2}{{}_6C_2} = \frac{9}{15} = \frac{3}{5},$$

$50p = 30$ 이다.

26) 정답 : 40

$x^3 - x^2 - x + 1 = (x^2 - 1)(x - 1) = (x - 1)^2(x + 1)$ 이므로

곡선 $y = x^3 - x^2 - x + 1$ 와 x 축으로 둘러싸인 부분의 넓이는

$$\int_{-1}^1 (x^3 - x^2 - x + 1) dx = \left[\frac{1}{4}x^4 - \frac{1}{3}x^3 - \frac{1}{2}x^2 + x \right]_{-1}^1 = -\frac{2}{3} + 2 = \frac{4}{3}$$

이다. 따라서 $30S = 40$ 이다.

27) 정답 : 19

$f(1) = 9f'(0)$ 이므로 $f(x)$ 는

$$f(x) = \begin{cases} \frac{x^3 + ax + b}{x - 1} & (x \neq 1) \\ 9f'(0) & (x = 1) \end{cases}$$

이다. $x = 1$ 에서의 연속성을 이용하여 a, b 를 구하자.

$f(x)$ 는 $x = 1$ 에서 연속이므로 $\lim_{x \rightarrow 1} f(x) = 9f'(0)$, 즉

$$\lim_{x \rightarrow 1} f(x) = \lim_{x \rightarrow 1} \frac{x^3 + ax + b}{x - 1} = 9f'(0) \text{ 이다.}$$

분모가 0으로 가기 때문에 분자도 0으로 가야 하므로 $a + b + 1 = 0$, $b = -a - 1$ 이다. 이를 대입하면 극한식은

$$\begin{aligned} \lim_{x \rightarrow 1} \frac{x^3 + ax - 1 - a}{x - 1} &= \lim_{x \rightarrow 1} \frac{(x - 1)(x^2 + x + 1 + a)}{x - 1} \\ &= \lim_{x \rightarrow 1} (x^2 + x + 1 + a) = 3 + a = 9f'(0) \end{aligned}$$

임을 알 수 있다. $\dots \textcircled{1}$

한편 (가)의 항등식에 $x = 0$ 을 대입하면 $f(0) = -b = a + 1$ 을 얻을 수 있고, 항등식 양변을 미분한 후 $x = 0$ 을 대입하면

$f(0) = f'(0) + a$ 이다. 따라서 $f'(0) = 1$ 이다.
다시 이를 ①에 대입하면 $3 + a = 9f'(0) = 9$ 에서 $a = 6$ 이고,
 $b = -7$ 이므로

$$f(x) = \begin{cases} \frac{x^3 + 6x - 7}{x - 1} & (x \neq 1) \\ 9f'(0) & (x = 1) \end{cases}$$

이다. 따라서 $f(3) = \frac{27 + 18 - 7}{2} = 19$ 이다.

28) 정답 : 12

곡선 $y = 6\sin(nx)$ 와 직선 $y = n$ 의 교점에 대하여 n 의 범위를 나누어 생각해 보자.

1) $n < 6$ 일 때

$nx = t$ 로 치환하면, 본 문제에서 원하는 값은 $0 \leq t \leq 2n\pi$ 에서 $6\sin t = n$ 을 만족하는 t 값의 합에 $\frac{1}{n}$ 을 곱해준 값과 같다. (단순 치환)

$n = 1$ 일 때, 교점이 2개가 나오는데 대칭성에 의해 t 값의 총합은 π 이다.

$n = 2$ 일 때, 교점이 4개가 나오는데 대칭성과 주기성 (3, 4번째 교점의 x 좌표는 1, 2번째 교점들의 x 좌표에 비해 각각 2π 씩 큼)에 의해 t 값의 총합은 $\pi + (\pi + 4\pi)$ 이다.

마찬가지 방식으로 $n = k$ (단, $1 \leq k \leq 5$)일 때,

t 값의 총합은 $\sum_{i=1}^k (\pi + 4(i-1)\pi) = 2\pi k^2 - \pi k$ 이다.

이때 x 값의 총합은 $2\pi k - \pi$ 이고 이 값이 6π 이하여야 하므로 가능한 k 는 $k = 1, 2, 3$ 뿐이다.

2) $n = 6$ 일 때,

$6x = t$ 로 치환하면, 본 문제에서 원하는 값은 $0 \leq t \leq 12\pi$ 에서 $6\sin t = 6$, 즉 $\sin t = 1$ 을 만족하는 t 를 모두 더한 후 $\frac{1}{6}$ 을 곱해 주면 모든 교점의 x 좌표들의 합을 구할 수 있다.

$$t = \frac{\pi}{2}, \frac{\pi}{2} + 2\pi, \frac{\pi}{2} + 4\pi, \dots, \frac{\pi}{2} + 10\pi$$

이고 이 모든 t 값의 총합은 33π 이고, 이를 6으로 나누면 모든 x 좌표의 합이다. 따라서 이 경우 역시 모든 x 좌표의 합인

$$\frac{33}{6}\pi = \frac{11}{2}\pi$$
가 6π 이하이므로 $n = 6$ 일 때도 성립한다.

3) $n > 6$ 일 때, 곡선 $y = 6\sin(nx)$ 와 직선 $y = n$ 의 교점이 존재하지 않는다.

따라서, 가능한 모든 n 은 $n = 1, 2, 3, 6$ 이고 이들의 합은 12이다.

29) 정답 : 20

‘총합이 8 이상일 때, 빨간 공을 적어도 하나 골랐을 확률’은 1에서 ‘총합이 8 이상일 때, 파란 공만 골랐을 확률’을 빼서 구할 수 있다(여사건의 확률). 따라서 총합이 8 이상일 때 파란 공만 골랐을 확률을 구하자.

먼저 8개의 공 중 3개의 공을 꺼냈을 때, 꺼낸 공에 적혀있는 숫자의 ‘총합이 8 이상일 경우의 수’를 구하기 위해, 그 여사건인 ‘총합이 8 미만일 경우의 수’를 구하자.

총합이 8 미만인 모든 경우는 공의 조합이

$$(1, 2, 2), (1, 2, 3), (1, 2, 4), (1, 3, 3), (2, 2, 3)$$

이 되도록 고른 경우이다. 이 경우들에서는 색깔을 정하지 않은 상태이므로, 색을 결정시켜주면 케이스에서 나올 수 있는 경우의 수는 각각

$$(1 \times 1 \times 1), (1 \times 2 \times 2), (1 \times 2 \times 2), (1 \times 1 \times 1), (1 \times 1 \times 2)$$

이므로 총합이 8 미만인 모든 경우의 수는 $1 + 4 + 4 + 1 + 2 = 12$ 가지이다.

따라서 8개의 공 중 3개의 공을 꺼내는 경우의 수는 ${}_8C_3 = 56$ 이므로 총합이 8 이상일 경우의 수는 $56 - 12 = 44$ 이다.

이제 8개의 공 중 3개의 공을 꺼냈을 때, 꺼낸 공에 적혀있는 숫자의 ‘총합이 8 이상이면서 파란공만 뽑을 경우의 수’를 구하자.

파란공만 뽑을 경우의 수는 ${}_5C_3 = 10$ 이고,

그 중 총합이 8 미만이 되는 경우는

$$(1, 2, 3), (1, 2, 4)$$

2가지가 있으므로, ‘총합이 8 이상이면서 파란공만 뽑을 경우의 수’는 $10 - 2 = 8$ 가지이다.

따라서 ‘총합이 8 이상일 때, 파란 공만 골랐을 확률’은

$$\frac{{}_5C_3 - 2}{{}_8C_3 - 12} = \frac{8}{44} = \frac{2}{11}$$
이므로 그 여사건의 확률인

‘총합이 8 이상일 때, 빨간 공을 적어도 하나 골랐을 확률’은

$$1 - \frac{2}{11} = \frac{9}{11}$$
이고, $p + q = 20$ 이다.

30) 정답 : 245

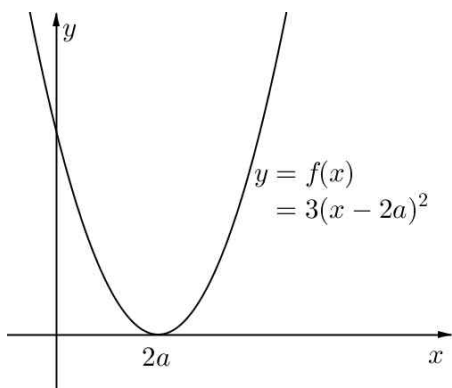
$g(a) = 0, g(0) = 0$ 이고 $g'(x) = (x-a)f(x) + \int_0^x f(t)dt$ 으로부터

$g'(a) = \int_0^a f(t)dt, g'(0) = -af(0)$ 이다.

즉, 곡선 $y=g(x)$ 가 두 점 $(a, 0), (0, 0)$ 을 지난다는 것은 확실하나 그 점들에서 극대 또는 극소가 될지, 아니면 평범하게 x 축을 관통하는 그래프를 나타낼지는 $f(x)$ 에 따라 달라진다.

(가)조건을 만족하는 $f(x)$ 의 케이스를 나눠보도록 하자.

i) $f(x) = 3(x-2a)^2$ (양의 실수를 중근으로 가질 때)



이 경우, $f(x)$ 의 부호가 음이 아니므로

$\int_0^a f(t)dt > 0, f(0) > 0$ 임을 알 수 있다.

따라서 $g'(a) > 0, g'(0) < 0$

즉, $x=0, a$ 에서 방정식 $g(x)=0$ 은 중근을 가지지 않으므로 $g(x) = x(x-a)(x-b)^2$ 꼴로 표현되어야 (나)조건을 만족시킬 수 있다. (단, $b \neq 0, a$)

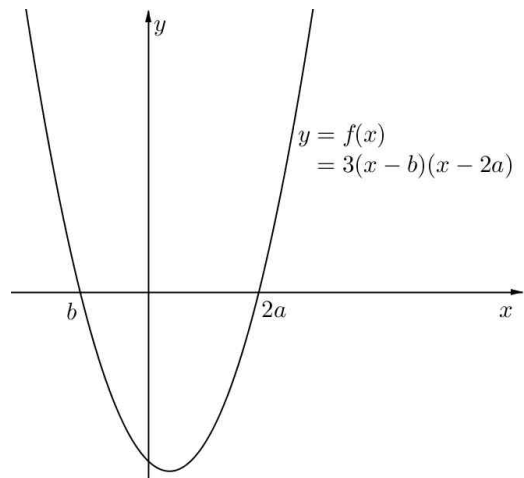
하지만

$$g(x) = (x-a) \int_0^x f(t)dt = (x-a) [(t-2a)^3]_0^x = (x-a)((x-2a)^3 + 8a^3)$$

에서, $(x-2a)^3 + 8a^3 = x(x-b)^2$ 을 만족시키는 b 는 존재하지 않음을 알 수 있다. (추가설명 : 두 식을 전개하여 항등식이 되기 위한 조건을 적용하면 $a=b=0$ 이 나오는데, 이는 $a > 0$ 이라는 점과 $b \neq a$ 라는 점에 모순이다.)

ii) $f(x) = 3(x-b)(x-2a)$ (단, $b < 0$)

($f(x)=0$ 이 음의 실근 하나와 양의 실근 하나를 가질 때)



이 경우는 구간 $(0, 2a)$ 에서 $f(x)$ 의 부호가 모두 음이므로

$\int_0^a f(t)dt < 0$ 이고, $f(0) < 0$ 이므로 따라서 $g'(a) < 0, g'(0) > 0$.

그런데, 양수 a 에 대하여 $g'(0) > 0$ 이고 $g'(a) < 0$ 이면 최고차항의 계수가 양수인 사차함수는 구간 $(0, a)$ 에서 극댓값을 가짐을 쉽게 알 수 있다. 또한 두 구간 $(a, \infty), (-\infty, 0)$ 에서 0보다 작은 극솟값을 가짐도 알 수 있다.

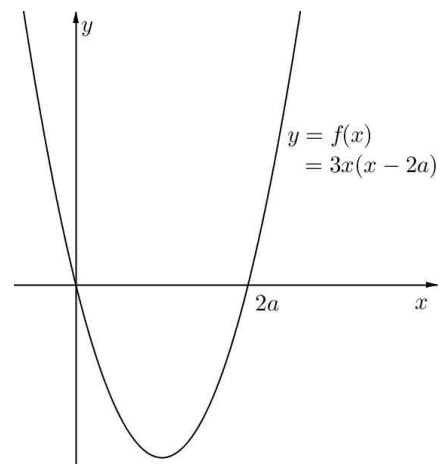
(\because 극솟값이 $g(0) = g(a) = 0$ 보다 작으므로)

한편 $\lim_{x \rightarrow \pm\infty} g(x) = \infty > 0$ 이므로 두 구간 $(a, \infty), (-\infty, 0)$ 에서

곡선 $y=g(x)$ 는 x 축과 각각 적어도 한 점 이상에서 만난다.

따라서, 곡선 $y=g(x)$ 는 $(0, 0), (a, 0)$ 를 포함한 네 점에서 x 축과 만나므로 (나)조건에 모순이다.

iii) $f(x) = 3x(x-2a)$ ($f(x)=0$ 이 서로 다른 실근 2개를 가지는데, 하나는 0이고 하나는 $2a$ 인 경우)



이 경우도 구간 $(0, 2a)$ 에서 $f(x)$ 의 함숫값의 부호가 모두 음이

므로 $\int_0^a f(t)dt < 0$ 이고,

$f(0) = 0$ 이므로 $g'(a) < 0, g'(0) = 0$ 이다.

따라서 $g(x)$ 는 $x=0$ 에서 극값을 가지므로

$g(x) = x^2(x-a)(x-b)$ 꼴로 표현이 된다.

(단, $g'(a) < 0$ 이므로 b 는 a 보다 큰 실수여야 함을 사차함수 개형으로도 알 수 있다.)

$$g(x) = (x-a) \int_0^x f(t)dt = (x-a)[t^3 - 3at^2]_0^x = (x-a)x^2(x-3a)$$

이므로 $b = 3a$ 이다.

$$\begin{aligned} g'(x) &= (x-a)f(x) + \int_0^x f(t)dt = 3x(x-2a)(x-a) + x^2(x-3a) \\ &= 2x(2x^2 - 6ax + 3a^2) \end{aligned}$$

이므로 방정식 $g'(x)=0$ 의 실근인

$x=0, \frac{3a-\sqrt{3}a}{2}, \frac{3a+\sqrt{3}a}{2}$ 에서 각각 극소, 극대, 극소임을

알 수 있고, 이들의 합이 6이어야 하므로 $a=2$ 이다. (근과 계수의 관계를 이용해도 좋다.)

따라서 $g(x) = (x-2)x^2(x-6)$ 이므로 $g(7) = 5 \times 49 = 245$ 이다.